

MMR 10 Los op. Gebruik je tabel.

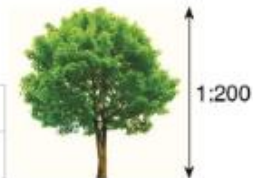
6 dm = _____ m	0,4 dm = _____ mm	2 cl = _____ l	1,5 dl = _____ ml
8 cm = _____ m	0,30 m = _____ mm	4 dl = _____ l	0,60 l = _____ ml
3 ton = _____ kg	$\frac{1}{2}$ ton = _____ kg	250 kg + _____ kg = 1 ton	
6 000 kg = _____ ton	$\frac{1}{4}$ ton = _____ kg	250 kg + _____ kg = $\frac{3}{4}$ ton	

MMR 11 Lees en los op.

V Hoe hoog is de boom in werkelijkheid in m?

S

op de foto	1 cm	_____ cm	_____ cm
in werkelijkheid	_____ cm	_____ cm	_____ m



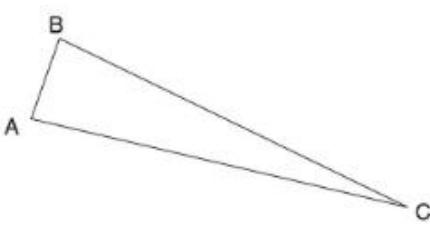
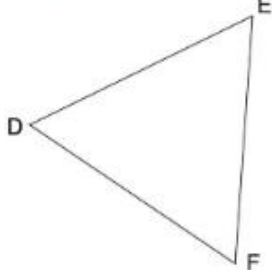
A

_____ **OK**

MK 12 Teken

een cirkel/schijf met straal 15 mm.	een trapezium met 1 stompe hoek.

MK 13 Benoem de driehoeken volgens de hoeken en de zijden.

	
ABC is een _____ _____ driehoek.	DEF is een _____ _____ driehoek.



Eerste druk 2015/196 - Bestelnummer 60 1002 365 - ISBN 978 90 4862 111 8
 KB D/2015/0142/165 - NUR 192
 Verantwoordelijke uitgever die Keure, Kleine Pathoekeweg 3, 8000 Brugge
 RPR 0405 108 325
 © Copyright die Keure, Brugge

