

4

Meetkunde

LES 5 Herhaling ruimtelijke oriëntatie en coördinaten



1 Kijk goed en los op.

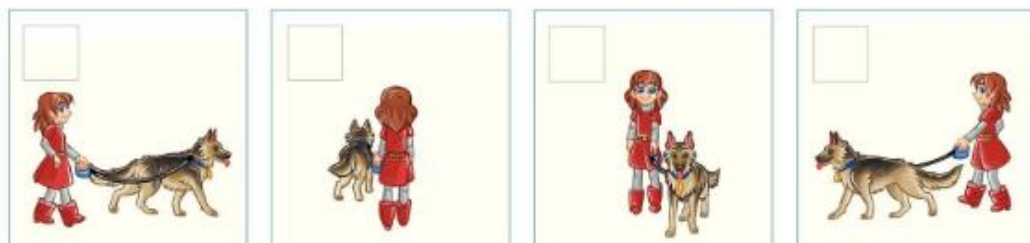
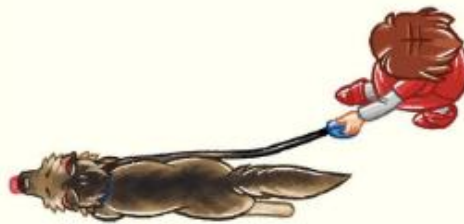
	A	B	C	D	E
1					
2					
3					
4					
5					

In welke vakken staat een cirkel/schijf?


<input type="checkbox"/>	<input type="checkbox"/>	<input type="checkbox"/>	<input type="checkbox"/>
--------------------------	--------------------------	--------------------------	--------------------------

Teken een driehoek in de vakken A4, D1 en C3.

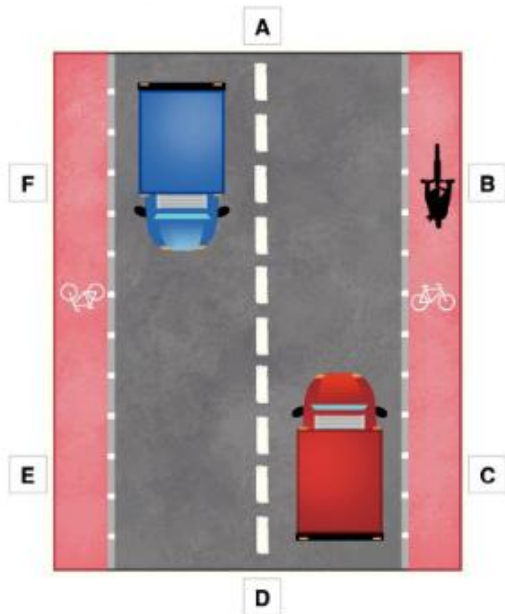
2 Zet een V bij het **vooraanzicht**, een A bij het **achteraanzicht**, een L bij het **linkerzij aanzicht** en een R bij het **rechterzij aanzicht**.





3 Kruis het **rechterzij aanzicht** aan.





4 Een fotograaf nam een foto op zes verschillende plaatsen langs de weg. Wat zag hij? Noteer de letters bij de juiste tekening.









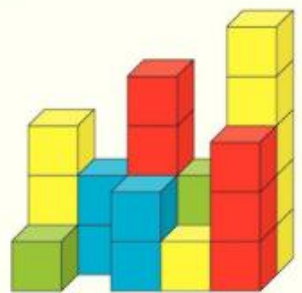









5 Noteer het aantal blokken op het grondplan.





6 Teken het gevraagde aanzicht.

	vooraanzicht	linkerzij aanzicht	achteraanzicht	rechterzij aanzicht																																																
	<table border="1" style="width: 100%; height: 100%; border-collapse: collapse;"> <tr><td style="width: 25px; height: 25px;"></td><td style="width: 25px; height: 25px;"></td><td style="width: 25px; height: 25px;"></td><td style="width: 25px; height: 25px;"></td></tr> <tr><td style="width: 25px; height: 25px;"></td><td style="width: 25px; height: 25px;"></td><td style="width: 25px; height: 25px;"></td><td style="width: 25px; height: 25px;"></td></tr> <tr><td style="width: 25px; height: 25px;"></td><td style="width: 25px; height: 25px;"></td><td style="width: 25px; height: 25px;"></td><td style="width: 25px; height: 25px;"></td></tr> </table>													<table border="1" style="width: 100%; height: 100%; border-collapse: collapse;"> <tr><td style="width: 25px; height: 25px;"></td><td style="width: 25px; height: 25px;"></td><td style="width: 25px; height: 25px;"></td><td style="width: 25px; height: 25px;"></td></tr> <tr><td style="width: 25px; height: 25px;"></td><td style="width: 25px; height: 25px;"></td><td style="width: 25px; height: 25px;"></td><td style="width: 25px; height: 25px;"></td></tr> <tr><td style="width: 25px; height: 25px;"></td><td style="width: 25px; height: 25px;"></td><td style="width: 25px; height: 25px;"></td><td style="width: 25px; height: 25px;"></td></tr> </table>													<table border="1" style="width: 100%; height: 100%; border-collapse: collapse;"> <tr><td style="width: 25px; height: 25px;"></td><td style="width: 25px; height: 25px;"></td><td style="width: 25px; height: 25px;"></td><td style="width: 25px; height: 25px;"></td></tr> <tr><td style="width: 25px; height: 25px;"></td><td style="width: 25px; height: 25px;"></td><td style="width: 25px; height: 25px;"></td><td style="width: 25px; height: 25px;"></td></tr> <tr><td style="width: 25px; height: 25px;"></td><td style="width: 25px; height: 25px;"></td><td style="width: 25px; height: 25px;"></td><td style="width: 25px; height: 25px;"></td></tr> </table>													<table border="1" style="width: 100%; height: 100%; border-collapse: collapse;"> <tr><td style="width: 25px; height: 25px;"></td><td style="width: 25px; height: 25px;"></td><td style="width: 25px; height: 25px;"></td><td style="width: 25px; height: 25px;"></td></tr> <tr><td style="width: 25px; height: 25px;"></td><td style="width: 25px; height: 25px;"></td><td style="width: 25px; height: 25px;"></td><td style="width: 25px; height: 25px;"></td></tr> <tr><td style="width: 25px; height: 25px;"></td><td style="width: 25px; height: 25px;"></td><td style="width: 25px; height: 25px;"></td><td style="width: 25px; height: 25px;"></td></tr> </table>												