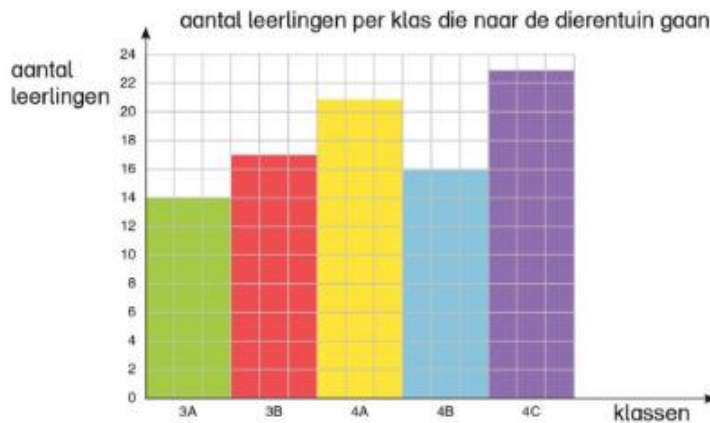


Naam: _____ Klas: _____ Datum: _____

NAAR DE DIERENTUIN

1 Kijk goed naar het staafdiagram en los op.

Op het einde van het schooljaar gaan de leerlingen van het derde leerjaar (twee klassen) en het vierde leerjaar (drie klassen) van basisschool 'Het Regenboogje' naar de dierentuin.



V Hoeveel leerlingen van het derde en vierde leerjaar gaan samen naar de dierentuin?

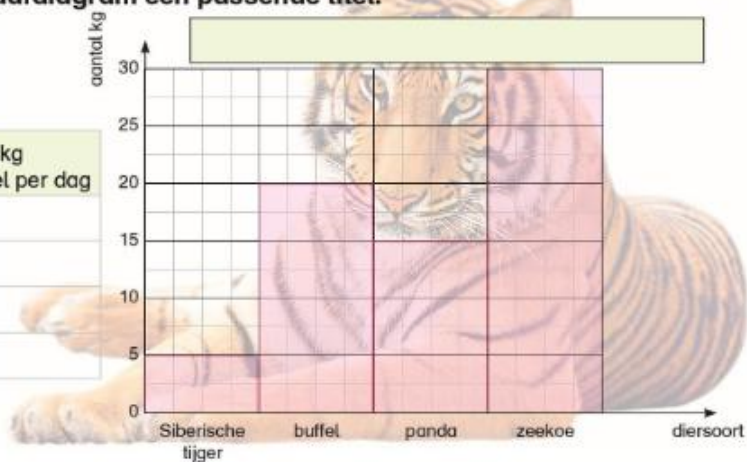
B $14 + 17 + 21 + 16 + 23 = 30 + 40 + 21 = 91$

A Er gaan 91 leerlingen van het derde en vierde leerjaar samen naar de dierentuin.



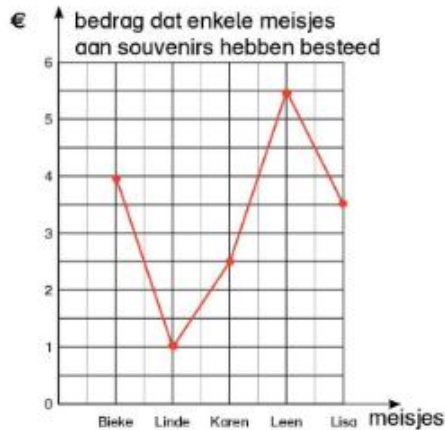
2 Zet de gegevens uit de tabel om in een staafdiagram. Noteer boven het staafdiagram een passende titel.

dier	aantal kg voedsel per dag
Siberische tijger	5
buffel	20
panda	15
zeekoe	30



3 Kijk goed naar de lijngrafiek en los op.

Tijdens het bezoek aan de dierentuin kochten vijf meisjes een souvenir.



V Hoeveel geld gaven de vijf meisjes samen uit aan souvenirs?

B
$$\begin{array}{r} \underline{\underline{\text{€ } 4 + \text{€ } 1 + \text{€ } 2,50 + \text{€ } 5,50 + \text{€ } 3,50}} \\ \text{€ } 5 \quad \text{€ } 7,50 \quad \text{€ } 13 \\ \hline = \text{€ } 16,50 \end{array}$$

A De vijf meisjes gaven samen 16,50 euro uit aan souvenirs.

4 Lees en los op.

De dierentuin telt vijf grizzlyberen. Zet de leeftijd van de vijf beren om in een lijngrafiek. Noteer een passende titel boven de grafiek.

